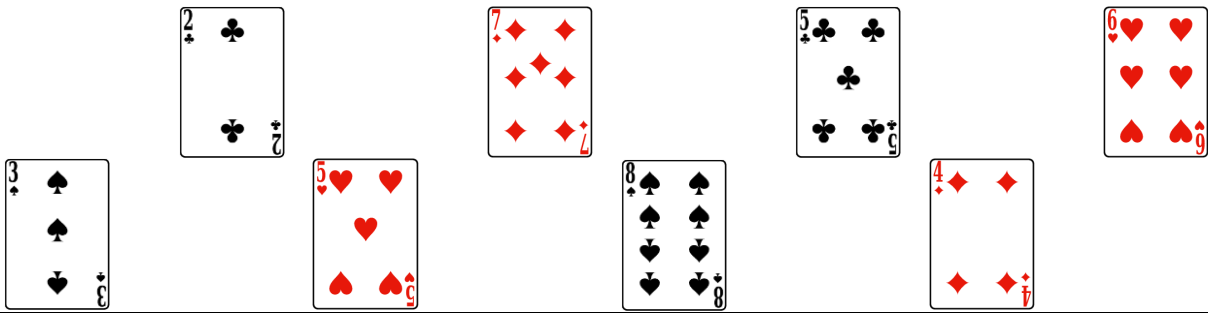


Score obtenu : / 28

1) Opérations : Relie deux à deux les cartes qui font 10.



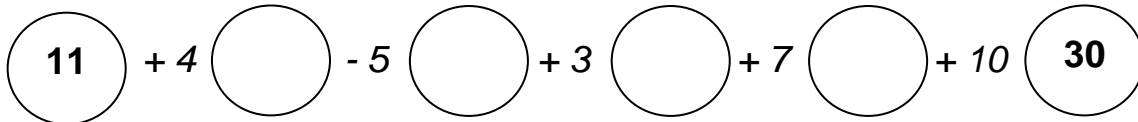
.../4

2) Suites numériques : Trouve la règle et écris le nombre manquant.

23 - 20 - 17 - - 11 8 - 12 - - 20 - 24

.../4

3) Calculs enchaînés : Calcule et complète les bulles.



.../4

4) Relations entre les nombres : Colorie d'une même couleur les cartes qui représentent le même nombre.

12	9	30	15
$3 + 3 + 3$	$6 + 6$	$8 + 2 + 5$	$10 + 10 + 10$

.../4

5) Le compte est bon : Effectue des calculs avec les nombres donnés pour trouver le nombre cible. Écris tes calculs dans les cases.

Attention : tu n'es pas obligé(e) d'utiliser tous les nombres et tu ne dois pas utiliser deux fois le même nombre.

9, 7, 1, 8, 3 → (18)

.../4


6) Problème : Observe l'image pour répondre.

Luc a acheté 18 kiwis et voici ce qu'il lui reste :
Combien a-t-il mangé de kiwis ?



.../4

7) Léo a fait 10 avec 3 dés. Retrouve la face du 3^e dé.



.../4